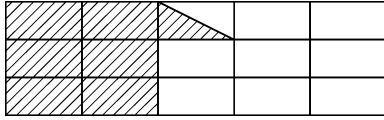



1. Mathematikschulaufgabe

Klasse 6


1. Welcher Bruchteil ist schraffiert?



2. Färbe $\frac{7}{9}$ als zusammenhängende Fläche.



3. Nebenan sind $\frac{3}{5}$ dargestellt.
Ergänze zum Ganzen.



4. Berechne $\frac{12}{25}$ von 100 € .

5. Wie viel s sind $\frac{5}{12}$ min? (Rechenweg anschreiben.)

6. 99 l sind $\frac{3}{5}$. Berechne das Ganze.

7. Schreibe als gemischte oder natürliche Zahl.

a) $\frac{88}{4}$ b) $\frac{14}{3}$ c) $\frac{43}{20}$

8. Schreibe als Bruch.

a) $3\frac{2}{5}$ b) 8 c) $6\frac{5}{6}$